

**ĐỀ CƯƠNG ÔN TẬP Ở NHÀ NGHỈ DỊCH CORONA – LỚP 2**  
**TIẾNG VIỆT (LẦN 5)**

*GV cho HS đọc thầm bài “Sơn Tinh, Thủy Tinh” SGK Tiếng Việt 2 tập 2 (trang 60 - 61) và khoanh vào chữ cái trước câu trả lời đúng:*

**Câu 1: Những ai đến cầu hôn Mị Nương?**

- A. Sơn Tinh.
- B. Thủy Tinh.
- C. Sơn Tinh và Thủy Tinh.

**Câu 2: Hùng Vương phân xử việc hai vị thần cùng cầu hôn như thế nào?**

- A. Ngày mai, ai đem lễ vật đến trước thì được lấy Mị Nương
- B. Lễ vật gồm: một trăm ván cơm nếp, hai trăm nệp bánh chưng, voi chín ngà, gà chín cựa, ngựa chín hồng mao.
- C. Cả hai ý (A) và (B)

**Câu 3: Dòng nào dưới đây gồm những từ chỉ hoạt động?**

- A. Đẹp, tài giỏi, cầu hôn, tức giận
- B. Đánh, bóc, chặn, nâng
- C. Dâng, hô, gọi, bảo

**Câu 4: Cuộc chiến giữa Sơn Tinh và Thủy Tinh, ai là người thắng cuộc?**

- A. Sơn Tinh.
- B. Thủy Tinh.
- C. Hai vị thần hòa nhau.

**Câu 5: Đặt câu hỏi cho bộ phận câu in đậm?**

Sơn Tinh **rất tài giỏi.**

.....

**Câu 6: Câu chuyện này nói lên điều gì là có thật?**

- A. Mị Nương rất xinh đẹp
- B. Nhân dân ta chống lũ rất kiên cường.
- C. Sơn Tinh rất tài giỏi.

**Câu 7: Em hãy đặt một câu theo kiểu câu Ai thế nào?**

.....

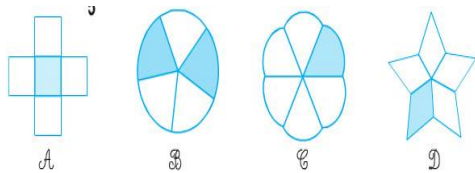


**ĐỀ CƯƠNG ÔN TẬP Ở NHÀ NGHỈ DỊCH CORONA – LỚP 2**  
**TOÁN (LẦN 5)**

**Câu 1: Kết quả của phép tính:  $4 \times 6 + 16 =$**

A. 40    B. 45    C. 50

**Câu 2: Hình nào đã tô màu  $\frac{1}{5}$**




**A                  B                  C                  D**

**Câu 3: Điền số thích hợp vào ô trống:**


$2 \times 3 \rightarrow \square$      $2 \times 8 \rightarrow \square$      $2 \times 5 \rightarrow \square$

$3 \times 2 \rightarrow \square + 3 \rightarrow \square$      $3 \times 4 \rightarrow \square - 6 \rightarrow \square$


**Câu 4: Nối đồng hồ ứng với cách đọc của nó:**



1 giờ 30 phút




10 giờ



7 giờ 20 phút

**Câu 5: Hình dưới đây có:**

- A. 2 hình tam giác và 2 hình tứ giác
- B. 2 hình tam giác và 3 hình tứ giác
- C. 2 hình tam giác và 4 hình tứ giác



**Câu 6: : Đúng ghi Đ, sai ghi S:**

A.  $16 \text{ giờ} - 6 \text{ giờ} = 6 \text{ giờ}$

B. Một ngày có 12 giờ.

C.  $2 \text{ dm } 6 \text{ cm} = 3 \text{ dm} - 4 \text{ cm}$

**Câu 7: Tìm x:**

$x \times 5 = 45$

$3 \times x = 27$

.....  
.....

.....  
.....

**8. Tính:**

a)  $5 \times 8 : 4 = \dots\dots\dots$   
 $= \dots\dots\dots$

b)  $4 \times 5 : 5 = \dots\dots\dots$   
 $= \dots\dots\dots$

**9. Đặt tính rồi tính**

$34 + 46$

$65 + 27$

$100 - 45$

$78 - 69$

.....

.....

.....

.....

.....

.....

.....

.....

.....

.....

.....

.....

**Câu 10: Có 30 quả cam được xếp vào các đĩa, mỗi đĩa 5 quả. Hỏi xếp được vào mấy đĩa?**

.....  
.....  
.....

**Câu 11: Mỗi chuồng có 5 con thỏ, hỏi 6 chuồng có bao nhiêu con thỏ?**

.....  
.....  
.....